

**ОБЩЕОБРАЗОВАТЕЛЬНАЯ ШКОЛА ПРИ ПОСОЛЬСТВЕ РОССИИ В ШВЕЦИИ**

**Контрольный тест для по математике**

**2 класс**

**ОБРАЗЕЦ**

Ф.И. \_\_\_\_\_

Дата аттестации \_\_\_\_\_

**Критерии оценивания**

Каждый правильный ответ – 1 балл.

Максимальный тестовый балл за выполнение всей работы – 25 баллов.

Оценка по пятибалльной шкале	«2»	«3»	«4»	«5»
Суммарный тестовый балл	Меньше 14	15– 18	19– 22	23 –25

Тест

1. Найди значение выражений:

$$56 - 50$$

Ответ: \_\_\_\_\_ . В ответ запиши только число.

$$48 + 16$$

Ответ: \_\_\_\_\_ . В ответ запиши только число. 2.

2. Рассмотрите чертёж.

3 см



2 см

Найди периметр данного прямоугольника. Обведи верный ответ.

5 см    10 см    6 см    12 см

3. Найди закономерность, по которой составлен ряд чисел. Вставь в пустые окошки пропущенные числа.

3, 6, 9, ..., 15, ..., 21, ..., ..., 30.

4. Подчеркни числовой ряд, в котором числа расположены в порядке возрастания.

20, 18, 16, 14

23, 30, 22, 59

23, 26, 29, 32

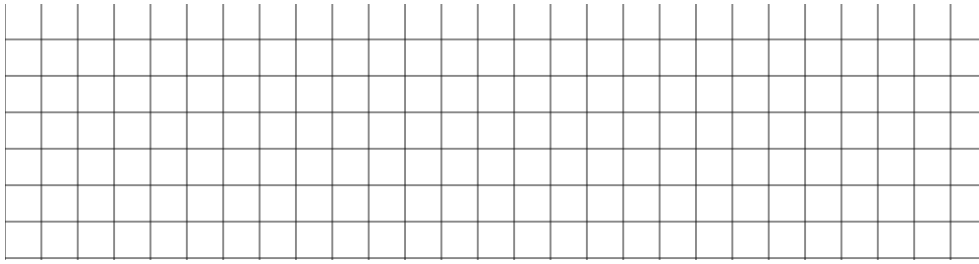
12, 20, 21, 19

5. Запиши число, в котором 5 десятков и 7 единиц. Ответ: \_\_\_\_\_.

6. Реши задачу:

*У Сережи 12 солдатиков, а у Антона на 6 больше. Сколько солдатиков всего у Сережи и Антона вместе?*

Решение:



7. Выбери и подчеркни все верные записи.

6 см 8 мм < 86 мм

5 дм < 9 см

3 м > 8 дм

45 м > 4 дм 5 см

6 м 20 см > 60 дм

8. Используя переместительное свойство умножения, вставь пропущенные числа в пустые окошки так, чтобы получились верные равенства.

$5 \cdot 8 = \dots \cdot 5$


$2 \cdot 6 = 6 \cdot \dots$

$7 \cdot 9 = \dots \cdot \dots$


9. Реши задачу:

*Цена булочки 5 рублей. Сколько стоят 2 такие булочки?*

Решение:



10. Начерти ломаную, длины звеньев которой равны 3 см, 4 см и 2 см. Найди ее длину.



11. Отметь знаком верный корень уравнения  $x - 42 = 17$



