


2. Выполни действия:

$$72 : (82 - 78) \times 2$$

$$19 + 17 \times 4 - 38$$

$$5 \times (3 \times 28 - 73)$$




3. Запиши примеры столбиком (письменные вычисления) и вычисли:

$$671 + 229$$

$$850 - 436$$

$$529 + 367$$


$$900 - 748$$



4. Реши уравнения:

$$700 - x = 384$$

$$90 : y = 6$$



--	--	--	--	--	--	--	--	--	--	--	--	--	--	--	--	--	--	--	--	--	--	--	--	--	--	--


5. Сравни ( $>$   $<$   $=$ )

4м 5см .... 450см

8дм 2см .... 8м 2см

2мин15с .... 115 с

6. Начерти прямоугольник, длина которого 12 см, а ширина в 2 раза меньше. Вычисли периметр и площадь прямоугольника.



7. Сварили варенье из клюквы. При этом на каждые 2 стакана ягод брали 3 стакана сахарного песка. Сколько стаканов ягод взяли для варенья, если всего израсходовали 15 стаканов сахара?

